





Interrogation écrite de l'examen du permis de conduire		
CATEGORIE C		FICHE N°1
1	<p style="text-align: center;">Une plaque orange sans aucune inscription, placée à l'arrière d'un camion signifie qu'il s'agit d'un transport de matières dangereuses circulant à vide. Vrai ou Faux ?</p>	1
2	<p style="text-align: center;">Cette limitation de vitesse peut-elle concerner les véhicules autres que les trains routiers, trains doubles et véhicules articulés ?</p>	
3	<p style="text-align: center;">Si, dans la même journée, vous conduisez un véhicule avec un chronotachygraphe à disque après avoir conduit un véhicule avec un chronotachygraphe numérique, devez-vous utiliser un disque vierge ?</p>	3
4	<p style="text-align: center;">Le châssis d'un véhicule lourd est principalement constitué de longerons et de ... ?</p>	4
5	<p style="text-align: center;">Quel est le document, lié à l'entreprise, qui doit se trouver dans un camion, de plus de 6 t de PMA et de plus de 3,5 t de charge utile, qui effectue un transport de marchandises pour compte d'autrui ?</p>	5
6	<p style="text-align: center;">Quelle est la charge utile d'un véhicule dont le PTAC est de 19 t et le poids à vide de 7 t ?</p>	6
7	<p style="text-align: center;">Votre véhicule (isolé) a un PTAC de 16 t. Sur route prioritaire à double sens, quelle est la vitesse maximale autorisée ?</p>	7
8	<p style="text-align: center;">Un conducteur effectuant un transport de matières dangereuses dans un véhicule fourgon doit-il obligatoirement avoir suivi une formation particulière ?</p>	8
9	<p style="text-align: center;">Vous avez interrompu votre conduite pendant 1 h 15 mn. Ce temps peut-il être pris en compte pour le calcul du temps de repos journalier ?</p>	9
10	<p style="text-align: center;">Dans un camion neuf, le conducteur doit-il obligatoirement attacher sa ceinture de sécurité ?</p>	10

Interrogation écrite de l'examen du permis de conduire		
CATEGORIE C		FICHE N°2
1	Quand je circule en Espagne, quel numéro de téléphone est-il conseillé d'utiliser pour appeler les secours à partir d'un portable ?	1
2	Débrancher ou modifier les réglages du limiteur de vitesse peut entraîner une suspension du permis de conduire, même s'il n'y a pas eu d'excès de vitesse constaté. Vrai ou Faux ?	2
3	Après 3 h de conduite continue, s'arrêter 10 mn sur un parking est-il considéré comme une pause ?	3
4	Ce signal concerne-t-il uniquement les véhicules affectés au transport de marchandises excédant 3 500 kg de PTAC ?	 4
5	La licence de transport intérieur permet d'effectuer des transports de tout tonnage à condition de rester en France. Vrai ou Faux ?	5
6	Vous chargez du sable dans un véhicule isolé, quelle est la charge maximale autorisée sur l'essieu le plus chargé du groupe d'essieux moteur ?	 6
7	Vous conduisez un camion neuf de 19 t de PTAC. A quelle vitesse êtes-vous limité en agglomération, sur une portion de route relevée à 70 km/h ?	7
8	Certains éléments de la chaîne cinématique nécessitent d'être vidangés ou ... ?	8
9	Vous attendez votre tour pour décharger sans connaître le temps d'attente. Sur quel symbole devez-vous positionner le sélecteur d'activité du chronotachygraphe ?	9
10	Une pierre coincée entre deux roues jumelées peut entraîner l'éclatement d'un pneumatique. Vrai ou Faux ?	10

**Interrogation écrite de
l'examen du permis de conduire**

CATEGORIE C


FICHE N°3

1	Citez un type d'extincteur utilisé pour éteindre une voiture en flamme	1
2	En France, à partir de quelle quantité d'alcool pur par litre de sang un conducteur de camion encourt-il une sanction ?	2
3	La descente dangereuse annoncée possède-t-elle un dénivelé de 100 mètres pour chaque kilomètre parcouru ?	3
		
4	Vous avez perdu votre « carte conducteur », pouvez-vous conduire en utilisant la carte « entreprise » que possède votre employeur ?	4
5	Effectuer un transport sous le régime « TIR » permet de simplifier les formalités douanières. Vrai ou Faux ?	5
6	Vous conduisez un camion comportant une caisse bâchée. Quelle peut-être sa largeur maximale ?	6
7	Vous conduisez un camion neuf de 26 t de PTAC. A quelle vitesse êtes-vous limité sur autoroute ?	7
8	Qu'aspire le moteur diesel lors du premier temps appelé « admission » ?	8
9	En règle générale; quelle est la durée minimale normale (non réduite) de repos hebdomadaire pour un conducteur de camion ?	9
10	Vous chargez du gravier. Vous voulez connaître la charge maximale autorisée par essieu, vous pouvez la trouver sur la plaque du constructeur. Vrai ou Faux ?	10

Interrogation écrite de l'examen du permis de conduire			
CATEGORIE C		FICHE N°4	
1	Le modèle allemand, italien ou espagnol d'un constat européen d'accident, comporte-t-il les mêmes rubriques que le modèle français ?	1	
2	Je possède les catégories B – C et CE. Conduire ma voiture personnelle après avoir pris de la drogue peut entraîner la perte de la catégorie B de mon permis de conduire uniquement. Vrai ou Faux ?	2	
3	Au bout de combien de jours, au maximum, l'entreprise doit-elle « télécharger » les données de votre carte conducteur	3	
4	Le temps de conduite pour venir à l'entreprise, le matin, avec votre véhicule personnel doit-il être ajouté au temps de conduite de votre véhicule lourd ?	4	
5	Comment appelle-t-on les transports exécutés à titre onéreux servant à transporter les marchandises de sa propre entreprise ?	5	
6	Quelle est la longueur maximale d'un camion isolé à 2 essieux ?	6	
7	Vous conduisez un camion neuf de 19 t de PTAC. A quelle vitesse êtes-vous limité sur route non prioritaire ?	7	
8	Ce signal concerne-t-il les véhicules affectés au transport de produits dangereux ou au transport de produits explosifs ?		8
9	Le turbocompresseur a pour fonction de diminuer l'air admis dans les cylindres ?	9	
10	Après une utilisation intense, quel type de ralentisseur peut provoquer un incendie dès l'arrêt ?	10	

Interrogation écrite de l'examen du permis de conduire		
	CATEGORIE C	FICHE N°5
1	Le signal de détresse peut-il remplacer le triangle de présignalisation pour un véhicule d'un PTAC de plus de 3,5 t ?	1
2	Le non-respect des limitations de tonnage pour le passage sur les ponts peut-il entraîner une suspension du permis de conduire ?	2
3	En double équipage, le temps passé sur la couchette d'un véhicule en circulation, est-il considéré comme repos journalier ?	3
4	Cette signalisation de présignalisation peut annoncer une barrière de dégel : Vrai ou Faux ?	4
5	Suite au contrôle technique périodique, quelle lettre figure sur le certificat d'immatriculation lorsque celui-ci est accepté ?	5
6	En règle générale, quel est le PTAC maximal d'un véhicule isolé comportant 2 essieux ?	6
7	Vous conduisez un camion neuf de 7,5 t de PTAC. Quand finit l'interdiction de circulation en fin de semaine ?	7
8	Le circuit d'alimentation d'un moteur diesel se compose, entre autres éléments, de deux pompes : l'une est dite pompe d'injection haute pression, l'autre est dite pompe ... ?	8
9	Votre véhicule est équipé d'un chronotachygraphe numérique. Vous avez perdu votre carte « conducteur », combien de jours, au maximum, pouvez-vous conduire sans carte ?	9
10	Dans un camion neuf, le passager doit-il obligatoirement attacher sa ceinture de sécurité ?	10





Interrogation écrite de l'examen du permis de conduire		
CATEGORIE C		FICHE N°6
1	Dans une longue descente, en cas de rupture de freins, si j'utilise une voie de détresse, le véhicule que je conduis sera-t-il gravement endommagé ?	1
2	Quel symbole devez-vous afficher sur l'écran du chronotachygraphe numérique lorsque vous nettoyez votre véhicule ?	2
3	La réglementation sociale européenne s'applique-t-elle à un conducteur non salarié propriétaire de son véhicule ?	3
4	Ce signal concerne-t-il uniquement les véhicules isolés ?	4
		
5	Pour un camion carrossé dans un atelier agréé, quel est le délai maximal pour le présenter à la première visite technique ?	5
6	Dans la définition du poids à vide, les différents réservoirs sont-ils remplis ?	6
7	Hors agglomération, sur une route à double sens, vous suivez un camion à 70 km/h. Quelle intervalle de sécurité minimum devez-vous respecter ?	7
8	Les filtres à carburant ou filtres principaux sont situés entre la pompe d'alimentation et la pompe à injection haute pression. Vrai ou Faux ?	8
9	Le conducteur doit pouvoir présenter les preuves de son activité pour la journée en cours et pour les ... jours précédents ?	9
10	Au-delà de quel PTAC les véhicules de transport de marchandises doivent-ils être équipés d'un dispositif complémentaire de signalisation arrière ?	10

**Interrogation écrite de
l'examen du permis de conduire**

CATEGORIE C

FICHE N°7

1	En cas d'accident dans lequel votre véhicule est en cause, les forces de l'ordre peuvent-elles saisir votre carte « conducteur » ?	1
2	Quelle est la catégorie du permis exigée pour conduire un tracteur « en solo » de 10 t de PTAC et de 38 t de PTRM quand il circule non attelé d'une semi-remorque ?	2
3	Le conducteur peut-il bâcher ou débâcher son véhicule pendant une pause ?	3
4	Je circule avec un véhicule mesurant 2,30 m de large. A hauteur de ce signal, puis-je continuer sur cette route ?	 4
5	Comment s'appelle le document qui doit accompagner la marchandise lors de tout transport pour compte d'autrui ?	5
6	Quelle est la longueur maximale d'un camion isolé à 3 essieux ?	6
7	Votre camion, en charge, transporte des denrées périssables, avez-vous le droit de continuer votre trajet le samedi après 22 h ?	7
8	L'embrayage est un organe mécanique nécessaire au passage des vitesses sur les seules boîtes mécaniques ?	8
9	Quand le repos journalier est fractionné, quelle doit être la durée minimale totale de ce repos ?	9
10	Vous suivez un véhicule dont les dispositifs réfléchissants sont triangulaires. Ce véhicule est probablement un véhicule isolé. Vrai ou Faux ?	10


Interrogation écrite de l'examen du permis de conduire		
	CATEGORIE C	FICHE N°8
1	Avec votre véhicule, vous avez détérioré des panneaux de signalisation. Devez-vous obligatoirement le signaler à votre compagnie d'assurance ?	1
2	Ce signal m'annonce-t-il une voie de détresse qui sera située sur ma gauche ?	 2
3	Quelle est la durée maximale autorisée de conduite continue pour un conducteur de camion ?	3
4	Quel symbole devez-vous afficher sur l'écran du chronotachygraphe numérique lorsque vous partez déjeuner ?	4
5	Faut-il un seul certificat d'immatriculation pour un ensemble de véhicules constitué d'un camion de 19 t de PTAC auquel on a attelé une bétonnière sur roues de 400 kg ?	5
6	En règle générale, le chargement peut-il dépasser l'aplomb avant du véhicule ?	6
7	Au-dessous de quelle hauteur libre d'un pont celle-ci sera-t-elle signalée ?	7
8	Circuler avec un seul pneu lisse ou détérioré peut entraîner l'immobilisation du véhicule jusqu'à son remplacement. Vrai ou Faux ?	8
9	La marche arrière sert à inverser le sens de rotation de l'arbre de transmission ?	9
10	Le circuit électrique alimentant le chronotachygraphe est-il indépendant du circuit alimentant le coupe-batterie ?	10


Interrogation écrite de l'examen du permis de conduire		
	CATEGORIE C	FICHE N°9
1	Les accidents corporels entre un poids lourd et une voiture sont majoritairement des accidents avec des véhicules circulant dans le même sens. Vrai ou Faux ?	1
2	Je circule, à vide, avec un véhicule de 5 tonnes de poids à vide et de 15 tonnes de PTAC. A hauteur de ce signal, puis-je passer ?	2
3	Un premier arrêt de 15 mn sur un parking peut-il être considéré comme une pause ?	3
4	Quel symbole devez-vous afficher sur l'écran du chronotachygraphe numérique lors des vérifications du véhicule avant le départ ?	4
5	Que signifie la mention « TIR » placée sur une plaque à l'arrière du véhicule ?	5
6	Le poids réel d'un véhicule peut-il être égal à son PTAC ?	6
7	En agglomération, vous suivez un camion. Quel intervalle de sécurité minimum devez-vous respecter ?	7
8	Dans une entreprise, le chargement est effectué par un manutentionnaire. Une fois terminé, vous appartient-il d'effectuer le contrôle de l'arrimage avant de démarrer ?	8
9	Un pont court permet d'obtenir un couple plus important et une vitesse du véhicule plus faible. Vrai ou Faux ?	9
10	Quelle est la périodicité des vérifications techniques obligatoires pour les chronotachygraphes ?	10



CESR 20

Formation aux métiers de la route

Interrogation écrite de l'examen du permis de conduire			
CATEGORIE C		FICHE N°10	
1	Si une partie de votre chargement est tombée sur la chaussée, par quel dispositif obligatoire devez-vous prévenir les autres usagers ?	1	
2	Après l'obtention (hors diplômes professionnels) de votre premier permis de conduire du groupe lourd, quelle formation devez-vous effectuer avant de pouvoir conduire un véhicule dans le cadre d'un transport public de marchandises ?	2	
3	Si vous avez à imprimer un ticket à partir d'un chronotachygraphe numérique, devez-vous inscrire votre nom sur le ticket, si votre carte « conducteur » est insérée dans l'appareil au moment de l'impression ?	3	
4	Quelle est la durée de validité de votre carte « conducteur » ?	4	
5	La dernière visite technique de votre camion date de 8 mois. Etes-vous en infraction en le conduisant ?	5	
6	En règle générale, quel est le PTAC maximal d'un véhicule isolé de 3 essieux ?	6	
7	En général, un véhicule tracteur en solo est-il soumis aux mêmes limitations de vitesse que s'il est attelé ?	7	
8	Ce signal peut-il concerner les véhicules Transportant une faible quantité de produits polluants ?		8
9	Le mécanisme de l'assistance de direction comprend une « bielle pendante ». Vrai ou Faux ?	9	
10	En cas d'obligation, une paire de chaînes à neige doit être montée sur les roues motrices ou sur les roues directrices ?	10	

Interrogation écrite de l'examen du permis de conduire		
CATEGORIE C		FICHE N°11
1	Un chiffre doublé (ex : 33) dans le rectangle du haut de la plaque orange placée à l'arrière d'un camion signifie : « produit de nature à polluer les eaux ». Vrai ou Faux ?	1
2	Avec le permis C, quel est le PTAC maximum de la remorque que vous pouvez atteler derrière votre camion ?	2
3	Le conducteur d'un véhicule de dépannage, est-il soumis à la réglementation sociale européenne, dans un rayon de 100 km autour de son point d'attache ?	3
4	Un conducteur peut-il demander une copie papier des données numériques, liées à son activité, qui sont conservées dans l'entreprise ?	4
5	La lettre de voiture doit détailler la nature des marchandises transportées. Vrai ou Faux ?	5
6	Quelle est la charge utile d'un véhicule dont le PTAC est de 32 t et le poids à vide de 9 t ?	6
7	Sur le périphérique parisien, les camions peuvent circuler à 80 km/h. Vrai ou Faux ?	7
8	Ce signal m'indique un arrêt d'autobus. Vrai ou Faux ?	 8
9	Quel type de suspension équipe généralement les véhicules lourds permettant de régler la hauteur du véhicule ?	9
10	Le principal avantage du système de freinage antibloquant est-il de réduire les distances de freinage ?	10

Interrogation écrite de l'examen du permis de conduire		
CATEGORIE C		FICHE N°12
1	Le constat amiable d'accident peut-il constituer une preuve de responsabilité ?	1
2	Un conducteur ramenant, à vide, un camion citerne de carburant, non dégazé, doit-il avoir obligatoirement suivi une formation particulière ?	2
3	Ce signal concerne-t-il les véhicules affectés aux seuls transports de produits polluants ?	3
4	Sur un ticket imprimé à partir d'un chronotachygraphe numérique, peut-on trouver les temps de conduite et les temps passés aux autres tâches ?	4
5	La licence communautaire permet-elle d'effectuer des transports dans toute l'Union européenne ?	5
6	Quelle charge maximale autorisée peut supporter un essieu isolé ?	6
7	Vous conduisez un camion neuf de 19 t de PTAC. A quelle vitesse êtes-vous limité sur route prioritaire ?	7
8	Le recreusage des pneumatiques est-il une opération qui peut s'effectuer uniquement par un spécialiste ?	8
9	Vous avez fait une coupure de 4 h (repos), quelle sera, au minimum, la durée de la période de repos suivante pour être en règle vis-à-vis du repos journalier ?	9
10	Vous chargez du sable. Vous voulez connaître la charge maximale autorisée par essieu, vous pouvez la trouver sur la plaque de tare et de surface. Vrai ou Faux ?	10




Formation aux métiers de la route

**Interrogation écrite de
l'examen du permis de conduire**

CATEGORIE C

FICHE N°13

1	Dans le transport routier, c'est pendant le travail, hors conduite, que l'on dénombre le plus fort taux d'accident chez les conducteurs ?	1
2	En cas d'excès de vitesse de 42 km/h, je pourrai repartir si je reconnais l'infraction ?	2
3	Pendant une pause, êtes-vous autorisé à décharger le véhicule ?	3
4	Vous avez fait une coupure de 2 h, quelle sera, au minimum, la durée (non réduite) de la période de repos que vous devrez prendre à la fin de votre journée de travail pour être en règle vis-à-vis du repos journalier ?	4
5	Lors d'un contrôle sur route, dois-je présenter un justificatif de l'employeur pour le ou les jour(s) non travaillé(s)	5
6	Vous conduisez un camion comportant une caisse réfrigérée. Quelle peut être sa largeur maximale ?	6
7	Je conduis un camion de 26 t de PTAC et de 10 t de PV. Pour emprunter une route où une barrière de dégel à 12 t avec mention demi-charge autorisée, est en place, quel doit être le poids maximum de mon chargement ?	7
8	Par temps sec, ce signal me concerne-t-il ?	8
		
9	Lorsque le conducteur serre le frein de parc, le cylindre de frein à ressort se remplit d'air. Vrai ou Faux ?	9
10	Quelle est la profondeur minimale (en millimètre – mm) des rainures principales d'un pneumatique de poids lourd ?	10


**Interrogation écrite de
l'examen du permis de conduire**

CATEGORIE C

FICHE N°14

1	En cas d'accident, les données du chronotachygraphe numérique peuvent-elles servir de preuve devant un tribunal ?	1
2	Si je perds tous les points de mon permis de conduire à la suite d'infractions commises au volant de ma voiture personnelle, pourrai-je continuer à conduire mon camion ?	2
3	Ce signal interdit-il de dépasser les seuls véhicules dont le PTAC dépasse 3,5 tonnes ?	3
4	Vous conduisez sans vous arrêter depuis 8 h ce matin. Il est 12 h 40. Etes-vous en infraction ?	4
5	Lors d'un contrôle des temps de conduite et de repos sur la route, en plus de la journée en cours, sur quelle période devez-vous pouvoir présenter les données ?	5
6	Vous conduisez un véhicule isolé à 2 essieux. Est-il possible d'être en surcharge sur l'essieu arrière si le poids réel ne dépasse pas le PTAC ?	6
7	Vous conduisez un camion neuf de 19 t de PTAC. A quelle vitesse êtes-vous limité sur route à sens unique prioritaire ?	7
8	Le circuit de freinage européen rend le freinage de l'essieu avant indépendant du freinage de l'essieu arrière. Vrai ou Faux ?	8
9	Vous vous arrêtez pour faire le plein de carburant. Sur quel symbole devez-vous positionner le sélecteur d'activité du chronotachygraphe ?	9
10	Au-delà de quel PTAC un extincteur à poudre de 6 kg minimum, placé à l'extérieur, doit-il équiper un camion neuf ?	10





Interrogation écrite de l'examen du permis de conduire		
	CATEGORIE C	FICHE N°15
1	Sur autoroute, en cas d'accident, pour appeler les secours, vaut-il mieux utiliser une borne d'appel ou son téléphone portable ?	1
2	Sur une route à double sens limitée à 70 km/h, lors d'un contrôle routier, votre carte conducteur indique que vous roulez à 80 km/h. Pouvez-vous être sanctionné ?	2
3	Vous rentrez chez vous le soir avec le camion de l'entreprise. Le matin, le temps de conduite pour vous rendre au dépôt est-il compté comme du temps de conduite ?	3
4	Après 2 heures de conduite, quelle est la durée minimale d'un premier arrêt pouvant être pris en compte comme pause ?	4
5	Dans le cadre d'un transport public, peut-il y avoir une lettre de voiture (avec état récapitulatif) dans le véhicule pour plusieurs voyages ?	5
6	Quelle est la majoration maximale autorisée du PTAC pour un véhicule équipé d'un dispositif ralentisseur pesant 400 kg ?	6
7	Vous conduisez un tracteur solo de 19 t de PTAC et de 38 t de PTR. A quelle vitesse êtes-vous limité sur route non prioritaire ?	7
8	En agglomération, ce signal est-il implanté 50 mètres avant le carrefour à sens giratoire ?	 8
9	Le dispositif antiblocage de roues (ABS) peut-il fonctionner en même temps que le ou les dispositifs ralentisseurs ?	9
10	Où doit se trouver l'extincteur obligatoire sur un véhicule isolé neuf de transport de marchandises de plus de 7,5 t : à l'intérieur ou à l'extérieur ?	10

**Interrogation écrite de
l'examen du permis de conduire**

CATEGORIE C

FICHE N°16

1	Que signifie une plaque de couleur orange, comportant 2 rectangles sans inscription, placée à l'arrière d'un camion ?	1
2	Lors d'un contrôle sur la route, est-il obligatoire de pouvoir présenter votre carte de qualification conducteur (CQC) ?	2
3	Hors agglomération, ce signal est-il implanté 100 mètres avant le carrefour à sens giratoire ? 	3
4	Vous avez interrompu votre conduite pendant 45 mn. Ce temps peut-il être pris en compte pour le calcul du temps de repos journalier ?	4
5	Dans le cadre d'un transport public, peut-il y avoir une seule lettre de voiture (avec état récapitulatif) dans le véhicule pour un transport comportant plusieurs destinataires dans la même journée ?	5
6	Vous transportez du béton liquide. Votre camion (isolé) comporte 4 essieux. Lors de la pesée avant de partir, le ticket annonce 30,5 t. Avez-vous le droit de prendre la route ? 	6
7	Vous conduisez un tracteur solo de 19 t de PTAC et de 38 t de PTR. A quelle vitesse êtes-vous limité sur route prioritaire ?	7
8	En principe, le ralentisseur hydraulique est situé sur ... ?	8
9	En règle générale, quelle est la durée minimale normale (non réduite) obligatoire de repos journalier lorsque celui-ci n'est pas fractionné ?	9
10	Quel type d'extincteur faut-il éviter d'utiliser pour éteindre les flammes d'un feu d'hydrocarbure ?	10


**Interrogation écrite de
l'examen du permis de conduire**

CATEGORIE C

FICHE N°17

1	Dans le transport, les accidents avec blessures du chauffeur sont plus nombreux en circulation que hors circulation. Vrai ou Faux ?	1
2	Quelle est la catégorie du permis exigée pour conduire un véhicule de transport en commun comportant 45 places circulant à vide ?	2
3	Pendant une pause, êtes-vous autorisé à ranger le chargement du véhicule ?	3
4	Ce signal interdit-il l'accès aux véhicules Mesurant plus de 3,50 m de hauteur, chargement compris ?	4
5	Si le véhicule que je conduis est soumis à la taxe à l'essieu, lors d'un contrôle routier, faut-il présenter l'original ou la photocopie de l'attestation de paiement ?	5
6	En règle générale, de quelle longueur maximale un chargement muni d'une signalisation réglementaire peut-il dépasser l'arrière du véhicule ?	6
7	Vous conduisez un tracteur solo de 19 t de PTAC et 38 t de PTR. A quelle vitesse êtes-vous limité sur route à sens unique prioritaire ?	7
8	Parmi les types de graissage moteur, il existe le graissage par pression. Vrai ou Faux ?	8
9	La rémunération mensuelle d'un conducteur salarié peut être calculée en fonction de la charge transportée pendant le mois. Vrai ou Faux ?	9
10	En cas de panne du chronotachygraphe, le délai maximal de remise en état, à compter de la panne, est fixé à ... ?	10



Interrogation écrite de l'examen du permis de conduire		
CATEGORIE C		FICHE N°18
1	Pour diminuer les risques d'accident, lors de la montée ou de la descente d'un camion, de combien de points d'appui le conducteur doit-il se servir ?	1
2	Le poids indiqué dans ce signal concerne-t-il le poids maximal autorisé que peut supporter l'essieu ?	2
		
3	Si, dans la même journée, vous conduisez un véhicule avec un chronotachygraphe numérique après avoir conduit un véhicule avec un chronotachygraphe à disque, devez-vous conserver le disque avec vous ?	3
4	Une huile multigrade classée SAE 20 W 40 peut être utilisée uniquement en hiver ?	4
5	Suite au contrôle technique périodique, lorsque le véhicule est refusé sans interdiction de circuler, dans quel délai maximum la contre-visite doit-elle être effectuée pour éviter une visite technique complète ?	5
6	Vous conduisez un camion de 2,50 m de large ne comportant pas de caisse réfrigérée. Votre chargement peut-il atteindre 2,60 m de large ?	6
7	Un véhicule isolé de 26 t de PTAC doit comporter à l'arrière un ou des disque(s) de limitation de vitesse. Quelle(s) est ou sont la ou les vitesse(s) indiquée(s) à l'arrière de ce camion ?	7
8	Au-delà de quel taux de surcharge (en pourcentage - %) le camion pourra-t-il être immobilisé, jusqu'au déchargement de l'excédent ?	8
9	La rémunération mensuelle d'un conducteur salarié peut être calculée en fonction de la distance parcourue pendant le mois. Vrai ou Faux ?	9
10	En règle générale, existe-t-il une commande indépendante de frein de secours à l'intérieur des véhicules lourds neufs ?	10

**Interrogation écrite de
l'examen du permis de conduire**

CATEGORIE C

FICHE N°19


1	Le nombre 33 dans le rectangle du haut de la plaque orange placée à l'arrière d'un camion signifie : « produit très inflammable ». Vrai ou Faux ?	1
2	En cas de récidive de grand excès de vitesse, une suspension du permis de conduire peut être assortie d'un permis limité à la conduite professionnelle (permis blanc) si l'infraction a été commise avec la voiture personnelle du chauffeur. Vrai ou Faux ?	2
3	Si vous avez à imprimer un ticket à partir d'un chronotachygraphe numérique, devez-vous inscrire votre nom sur le ticket, si votre carte « conducteur » est retirée de l'appareil au moment de l'impression ?	3
4	Vous conduisez sans vous arrêter depuis 8 h 40 ce matin. Il est 12 h 40. Etes-vous en infraction ?	4
5	Suite au contrôle technique périodique, quelle lettre figure sur le certificat d'immatriculation lorsque le véhicule est refusé sans interdiction de circuler ?	5
6	Le chargement d'un véhicule peut-il dépasser 4 m de haut ?	6
7	Au-delà de quel tonnage les camions sont-ils concernés par les interdictions de circuler en fin de semaine ?	7
8	Mon véhicule a un poids à vide de 5 tonnes et un PTAC de 12 tonnes. Ce signal me concerne-t-il ?	8
9	Le contrôle et le remplissage du circuit de refroidissement s'effectuent plutôt moteur chaud ou moteur froid ?	9
10	En règle générale, à quelle vitesse doit être réglé le limiteur de vitesse d'un camion neuf ?	10




**Interrogation écrite de
l'examen du permis de conduire**

CATEGORIE C

FICHE N°20

1	<p align="center">En moyenne, il y a plus d'accidents graves impliquant un poids lourd les samedis et veilles de jours fériés que les jours de la semaine. Vrai ou Faux ?</p>	1	
2	<p align="center">Après l'obtention (hors diplômes professionnels) de votre premier permis de conduire du groupe lourd, devez-vous obligatoirement suivre une Formation Initiale Minimale Obligatoire (FIMO) pour le transport de biens dans des buts privés ?</p>	2	
3	<p align="center">Après 4 h 30 de conduite continue, quelle est la durée minimale de la pause que vous devez respecter ?</p>	3	
4	<p align="center">Vous venez d'obtenir votre permis C, pouvez-vous conduire un véhicule équipé d'un chronotachygraphe numérique avant d'avoir reçu votre carte conducteur ?</p>	4	
5	<p align="center">Vous effectuez un transport sous convention T.I.R. Les portes du véhicule doivent-elles être scellées ?</p>	5	
6	<p align="center">Vous transportez du béton liquide. Votre camion (isolé) comporte 4 essieux. Lors de la pesée avant de partir, le ticket annonce 32,8 t. Avez-vous le droit de prendre la route ?</p>	6	
7	<p align="center">Vous conduisez un camion de plus de 7,5 t de PTAC. En règle générale, quand débute l'interdiction de circulation en fin de semaine ?</p>	7	
8	<p align="center">Sur cette chaussée la hauteur des arbres est susceptible d'être inférieure à 4,30 m. Vrai ou Faux ?</p>		8
9	<p align="center">En règle générale, les véhicules lourds utilisent deux batteries de 12 volts montées en ... ?</p>	9	
10	<p align="center">Est-il autorisé de monter des pneus de types différents sur un même essieu, roues jumelées ou non (en dehors de la roue de secours), sur un véhicule récent ?</p>	10	

Réponses	01	02	03	04
01	FAUX	112	POUDRE	Oui
02	OUI	VRAI	0,50 GR/L	FAUX
03	OUI	NON	OUI	28 JOURS
04	TRAVERSES	NON	NON	NON
05	COPIE CONFORME LICENCE COMMUNAUTAIRE	FAUX	VRAI	PRIVEE
06	12 T	11,5 T	2 M 55	12 M
07	80 KM /H	50 km/h	90 KM/H	80 km/h
08	OUI	GRAISSES	AIR	OUI
09	NON		45 H	NON
10	OUI	VRAI	VRAI	ELECTRIQUE

Réponses	05	06	07	08
01	NON	NON	OUI	OUI
02	OUI		C	NON
03	NON	OUI	NON	4 H 30.
04	VRAI	NON	OUI	
05	A	1 AN	LETTRE DE VOITURE	OUI
06	19 T	OUI	12 M	NON
07	DIMANCHE 22 H	50 M	OUI	4 M 30
08	POMPE D'ALIMENTATION	VRAI	NON	VRAI
09	15 JOURS	28 JOURS	12 H	OUI
10	OUI	6 T	FAUX	OUI

Réponses	09	10	11	12
01	VRAI	TRIANGLE DE PRESIGNALISATION	NON	OUI
02	NON	FIMO	750 KG	OUI
03	OUI	NON	NON	NON
04		5 ANS	OUI	OUI
05	TRANSIT INTERNATIONAL ROUTIER	NON	VRAI	OUI
06		26 T	23 T	13 T
07	2 SECONDES	OUI	FAUX	80 KM/H
08	OUI	OUI	FAUX	OUI
09	VRAI	VRAI	PNEUMATIQUES	9 H
10	2 ANS	MOTRICES	NON	FAUX

Réponses	13	14	15	16
01	OUI	Oui	BORNE D'APPEL	Transport de Matières Dangereuses
02	NON	NON	OUI	OUI
03	NON	NON	OUI	NON
04	11 H	OUI	15 MIN	NON
05	OUI	28 JOURS	OUI	OUI
06	2 M 60	OUI	400 KG	OUI
07	8 T	80 KM/H	60 km/h	80 KM/H
08	OUI	VRAI	OUI	BOITE A VITESSE
09	FAUX		OUI	11 H
10	1 MM	7,5 T	EXTERIEUR	EAU

Réponses	17	18	19	20
01	FAUX	3	VRAI	FAUX
02	D	NON	FAUX	NON
03	NON	OUI	NON	45 MIN
04	OUI	NON	NON	NON
05	ORIGINAL	1 MOIS	S	OUI
06	3 M	NON	OUI	NON
07	80 km/h	80 90	7,5 T	SAMEDI 22 H
08	Vrai	5%	Oui	VRAI
09	FAUX	FAUX	FROID	SERIE
10	7 JOURS	NON	90 KM/H	NON